
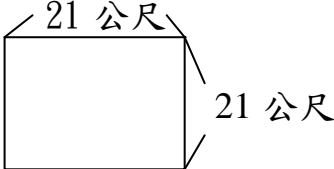
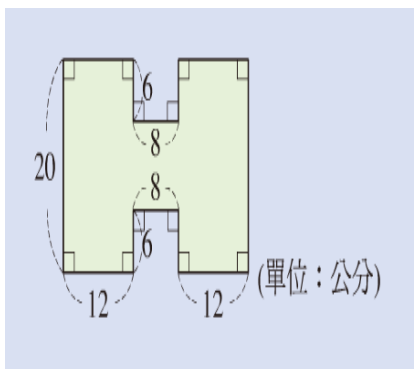


5/21 數格本作業

<p>(1) 社區長方形中庭的長是 15 公尺，寬是 12 公尺，面積是多少平方公尺？用面積一平方公尺的布要多少塊才能撲滿</p>	<p>(2) 王先生的田地，長是 62 公尺，寬是 51 公尺，面積是多少平方公尺。</p>
<p>(3) 下面面積是多少？</p> 	<p>(4) 下面面積是多少？</p> 
<p>(5) 填填看(要抄題目)</p> <p>① 8 平方公尺 = () 平方公分</p> <p>② 10000 平方公分 = () 平方公尺</p>	<p>(6) 填入 >、< 或 = (要抄題目)</p> <p>① 206 平方公尺 <input type="checkbox"/> 311 平方公分</p> <p>② 10 平方公尺 <input type="checkbox"/> 990000 平方公分</p>
<p>(7) 算算看，下圖的面積是多少？ 請寫出兩種不同算法</p> <div style="display: flex; justify-content: space-around; margin-top: 10px;"> ① ② </div>  <p style="text-align: right;">(單位：公分)</p>	